



UNIDAD 4

“LAS GRANDES CIUDADES”



...”El aumento de la proporción de la población urbana en relación con la población rural es un fenómeno mundial que se registra a partir de la Revolución Industrial del siglo XVIII. Las actividades rurales expulsaron población hacia los centros urbanos.

Vivir en las ciudades ofrece ventajas, que determinaron el crecimiento de los grandes aglomerados urbanos, y desventajas, que impulsaron a la población hacia las ciudades intermedias”...





Colegio San Patricio

A-019 - Incorporado a la Enseñanza Oficial
Fundación Educativa San Patricio



1,- ¿En qué país se encuentra cada una de las ciudades?, elaborar un cuadro de referencias.

2,- Analizar las actividades del cuadernillo, página 90.

3,- La siguiente tabla muestra la superficie y la población de los cinco países más grandes del mundo. Calculen la densidad de población de cada uno de ellos y construyan una tabla similar, que presente la densidad de población en una cuarta columna. Luego averiguar cuáles son los 5 países que le siguen a los presentes y averiguar sus datos:

PAÍS	SUPERFICIE EN KM2	POBLACIÓN HABITAN.	DENSIDAD/KM2
RUSIA	17,000,000	144,700,000	
CANADÁ	9,971,000	31,000,000	
ESTADOS UNIDOS	9,809,000	285,900,000	
CHINA	9,461,000	1,285,000,000	
BRASIL	8,512,000	172,600,000	



Colegio San Patricio

A-019 - Incorporado a la Enseñanza Oficial
Fundación Educativa San Patricio

PROCESO DE URBANIZACIÓN

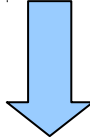


CIUDADES MILLONARIAS

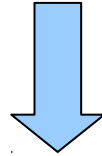


AGLOMERACIONES

Las grandes ciudades se expanden sobre otras



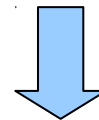
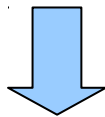
**16 aglomeraciones del mundo concentran el 8% de la población del mundo.
La mayoría se encuentran en los países subdesarrollados y han crecido mucho
en muy poco tiempo**



PROBLEMÁTICAS URBANAS

MEGALÓPOLIS

METRÓPOLIS



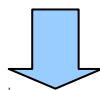
**ÁREA URBANA FORMADA POR VARIAS
AGLOMERACIONES METROPOLITANAS**

**GRANDES CIUDADES
METROPOLITANAS**

ACTUALMENTE



SE DA UNA TENDENCIA MUNDIAL DE:



**DESCONCENTRACIÓN
DESACELERACIÓN**

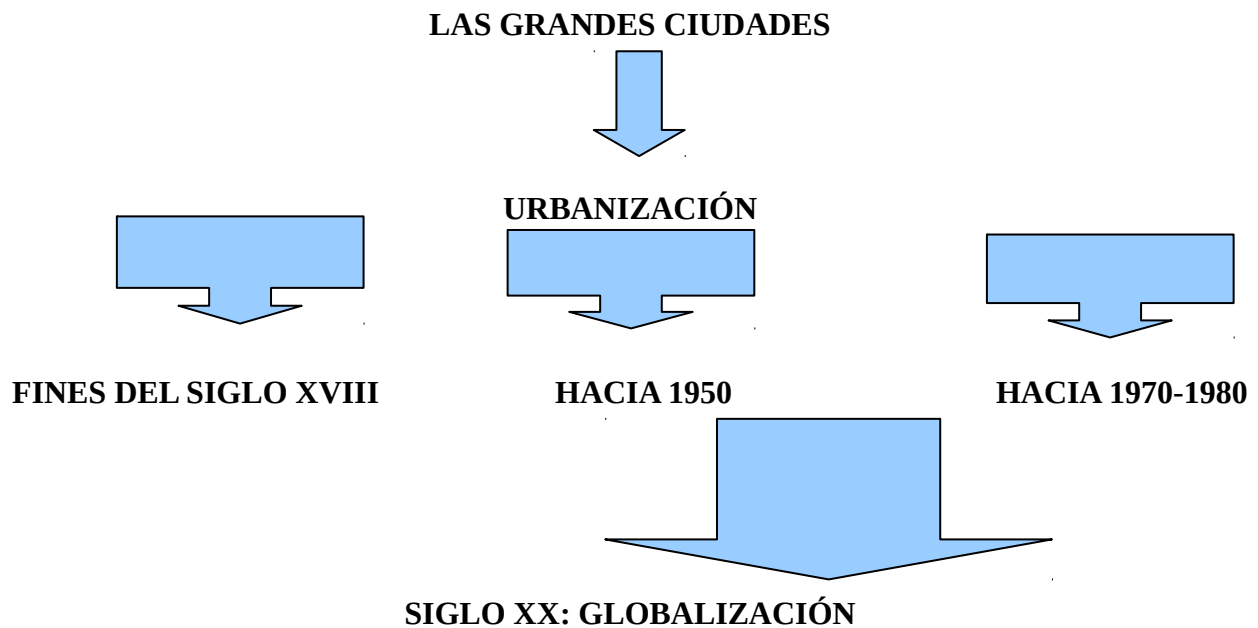


Colegio San Patricio

A-019 - Incorporado a la Enseñanza Oficial
Fundación Educativa San Patricio

- 4,- a) ¿A qué se llama proceso de urbanización?
b) ¿En qué continente se produjo un gran crecimiento urbano en las últimas décadas?
c) ¿qué criterios se toman en cuenta para considerar a una población como urbana?
d) ¿En que continentes se hallaban las mayores aglomeraciones urbanas en 1995 y en cuáles se hallarán en 2025?
e) ¿Cuáles son las ventajas y desventajas de residir en una ciudad?

5.- Completar el siguiente esquema sobre el proceso de urbanización en el mundo. Analizando los elementos que caracterizaron a cada momento y lugar.



6.- ¿Qué significa ser una Ciudad Global? ¿Qué características comunes presentan las Ciudades Globales?

7.- Con la ayuda de una enciclopedia, definir:

- Industrialización
- Contraurbanización
- Globalización
- Centro
- Periferia
- Ciudades primarias
- Ciudades Secundarias
- Ciudades Periféricas
- Elitización o gentrification.

8.- ¿Qué cambios y transformaciones se producen en la Ciudad de Buenos Aires, en los siguientes momentos:

- Década de 1980
- Década de 1990

Analizarlo teniendo en cuenta:

- cambios producidos



Colegio San Patricio

A-019 - Incorporado a la Enseñanza Oficial
Fundación Educativa San Patricio

- áreas afectadas
- sectores económicos que se desarrollaron

9,- En un planisferio N° 5 marcar las siguientes ciudades:

- Con ROJO las siguientes Ciudades Primarias: TOKIO, LOS ANGELES, CHICAGO, NUEVA YORK, LONDRES, PARÍS
- Con AZUL las siguientes Ciudades Secundarias: SYDNEY, SAN FRANCISCO, HOUSTON, MIAMI, TORONTO, MADRID, MILAN, VIENA, JOHANNESBURGO.
- Con VERDE las siguientes Ciudades Primarias Periféricas SINGAPUR, BUENOS AIRES
- Con NEGRO las siguientes Ciudades Secundarias Periféricas: SEUL, TAIPEI, HONG KONG, BANGKOK, MANILA, MÉXICO, CARACAS, RÍO DE JANEIRO.

10,- Resolver, con ayuda de diccionarios o internet lo siguiente:

1. Nombre de una ciudad, cuyo significado quiere decir “Ciudad del León”
2. Templo más famoso de Taipei, importante por su tamaño
3. Flor nacional de Seúl
4. Nombre del tren elevado para recorrer Bangkok
5. Nombre de la seda artesanal Thaiandesa
6. Nombre de los carritos tirados a pie o bicicleta para circular por la ciudad de Bangkok
7. Ciudad conocida con la denominación de “Ciudad de los Contrastes”
8. Fue una colonia de Gran Bretaña y recién logró su independencia en 1997
9. Es el templo más famoso de Taipei con un enorme jardín llamado de Rungskin.
10. Nombre que recibe el mercado de Manila, que ofrece al visitante lo inimaginable.

11,-

CIUDAD	PAÍS/CONTINENTE	LATITUD	LONGITUD	HEMISFERIOS
BUENOS AIRES	Argentina/América del Sur	35° Latitud Sur	58° Longitud Oeste	Sur/Oeste
OTTAWA				
BRASILIA				
MADRID				
MOSCÚ				
TOKYO				
YAKARTA				
CANBERRA				



Colegio San Patricio

A-019 - Incorporado a la Enseñanza Oficial
Fundación Educativa San Patricio

CIUDAD DEL CABO				
EL CAIRO				
ROMA				
NUEVA DELHI				
PEKÍN				
MÉXICO D.F.				
ASTANA				
OSLO				
JARTÚM				
BAMAKO				
PORT MORESBY				
WELLINGTON				
COPENHAGUE				
KATMANDÚ				
HANOI				
KIEV				
MINSK				
WINDHOEK				
LISBOA				
WASHINGTON				
BISHKEK				
DUSHANBE				



Colegio San Patricio

A-019 - Incorporado a la Enseñanza Oficial
Fundación Educativa San Patricio

JERARQUÍA DE CIUDADES MUNDIALES

